

1ねんせいのみなさんへ

5月12日(火)

きょうも、げんきに がんばりましょうね。





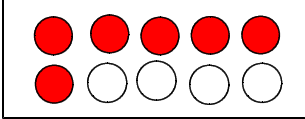


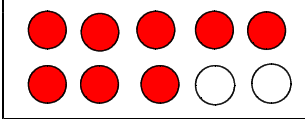
★おおきさくらべについてせつめいします。

<れい>

6と8の どちらが おおきいですか

6 と 8 は すうじ(もじ)です。この2つのすうじの おおきさくらべをするには、すうじとりょうが つながっていなければ できません。

6といわれたら ブロックでもよいし、ドットカードのでもよいですから、6のりょうをぱっと イメージできるかどうかです。

 ブロックの 6	 すうじの 6	 ドットカードの 6
 ブロックの 8	 すうじの 8	 ドットカードの 8

ステップ1: りょうで おおきさくらべを する

- ・ブロックの6 と ブロックの8 を くらべる
- ・ドットカードの6 と ドットカードの8 を くらべる

ステップ2: かたほうは すうじ かたほうは りょうのわかるもので おおきさくらべを する

- ・すうじの6 と ブロックの8 (ドットカードの8) を くらべる
- ・すうじの8 と ブロックの6 (ドットカードの6) を くらべる

ステップ3: りょうほうとも すうじ で おおきさくらべを する

- ・すうじの6 と すうじの8 を くらべる

○ステップ1 →ステップ2 →ステップ3 のじゅんに すこしずつ むずかしくしていきます。

○おおきさくらべを ゲームにして たのしみながら がくしゅうできるようにしたのが、「どちらがおおきい」ゲームです。おうちのひとと たのしみながら なんかいもやってみましょう。