



## 5年生のみなさんへ

みなさん、こんにちは。  
今日は真っ青な青空に恵まれ、気持ちのいい日ですね。  
こんな日は家の前でなわ跳びをしたり、近所をジョギング  
したりして体を動かしましょう。  
すがすがしく気持ちがいいですよ。

さて、今日は学校の前の桜を紹介します。  
冬の間寒さに耐え忍んでいたつぼみも、暖かさに誘われて  
少しずつ開花しようと準備を進めていました。

まだまだ、固いつぼみが多いですが、中にはふくらみ色付き  
始めているつぼみもありました。桜の開花が待ち遠しいですね。



今日の学習のヒントコーナーは、外国語活動の学習を紹介します。

### 〈外国語活動〉

4年生から始めた外国語活動で、みんなは英語がとても上手になりました。  
今日は、家にいながら世界のいろいろなことを知ることができ、英語も上手になるNHKのホーム  
ページを紹介します。世界には日本とは違ったものがたくさんあります。世界が身近に感じられ  
ます♪

英語リアン <https://www.nhk.or.jp/eigo/eigorian/>


プレキソ英語 <https://www.nhk.or.jp/eigo/prekiso/>

## 【先生からのスペシャル問題！解答！】

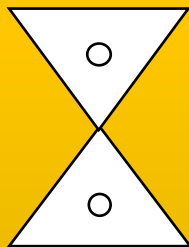
問題：同じ形の三角定規で次のような図形を作りました。

それぞれの内角の和（図形の内側の角の和のこと）を求めましょう！

例 三角形なので？ ① 三角形をふたつ合わせた形 ② 三角形二つを少しずらした形

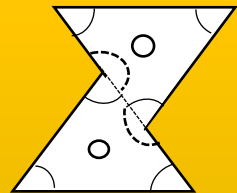


( 180° )



( 360° )

②を 360° と考えて  
いた人は、どうして  
720° なのか理由を考  
えてみましょう。  
ヒント！点線に注目！



( 720° )

